

10-02

призер

Муниципальный этап
ВСЕРОССИЙСКОЙ ОЛИМПИАДЫ ШКОЛЬНИКОВ
по Искусству (мировой художественной культуре)
2017/2018 учебного года

10 класс

Номер задания	Баллы
1	6
2	34
3	18
4	21
5	81
6	9
Общий балл	88

Мер Мисф



Тамбов, 2017

Задание 1 «Знатоки музыки»

Что или кто является **ЛИШНИМ** в ряду? Лишнее слово подчеркните, впишите в таблицу и кратко объясните свой выбор.

1. Классицизм, романтизм, барокко, модерн, рококо.
2. Ритм, темп, контраст, форма, звук.
3. Скрипка, виолончель, гитара, арфа, флейта.
4. Ария, симфония, концерт, соната, пьеса.
5. «Юнона и авось», «Свадьба Фигаро», «Дон Жуан», «Волшебная флейта».
6. Сергей Рахманинов, Алексей Верстовский, Василий Агапкин, Петр Чайковский, Модест Мусоргский.

Таблица ответов

Номер ряда	Лишнее слово	Краткое обоснование выбора	
1	<u>Модерн</u>	Это стиль живописи и архитектуры.	-
2	<u>форма</u>	Очертание контура предмета	-
3	<u>Флейта</u>	Флейта - духовой инструмент.	+3
4	<u>Концерт</u>	Концерт - выступление кого-либо или публичное исполнение музыкальной композиции.	-
5	<u>Юнона и Авось</u>	самая известная Рок-Опера, совсем другой жанр произведения.	+3
6	<u>Агапки</u>	российский график.	-

Баллы 6

Задание 2 «Знатоки скульптуры»

Даны три скульптурные работы. Ответьте на вопросы, запишите ответы в таблицу.

1. Напишите 4-5 слов или словосочетаний, передающих настроение этих скульптур.
2. Анализируя пластическую форму, напишите 4-5 средств выразительности каждой скульптуры.
3. Напишите в таблице название, автора, время создания и место нахождения этих скульптур.

1	2	3
---	---	---

Мамин Курган




Таблица ответов

Слова / словосочетания, передающие настроение работ:		
1 Зовут на защиту Родины. 5	2 Держит глобус, и сидит уф-но. 1	3 Советский союз 2
Средства выразительности:		
Выразительность темной динамики передающая настроение 4	0	0
Общие черты:		
Название, автор, время создания и место нахождения этих скульптур:		
Мемориал Мажал в Кургане Валлоуар 1958 - 1967 год г. Кургане Е.В.	Томский Верхнеудинскому Вукашников 2014г	Колхозника и Рабочий Москва

8

8

6

Баллы 34

Задание 3. «Знаатоки архитектуры»

Даны 4 изображения архитектурных объектов.

1. Определите, в каком городе Вы находитесь? Новгород
2. Напишите названия объектов, которые позволили Вам сделать вывод.
3. Когда они были построены?
4. Определите характерные черты этих построек. В чем их своеобразие?
5. Дайте символично-образное описание этих построек.

Таблица ответов

1	2	3
		
<p>Черковь св. Георгия</p>	<p>Собор св. Духа</p>	<p>Дormицкий собор Ярославля</p>
<p>на Ильинской ул.</p>	<p>11 век 1045 - 1050 год.</p>	<p>12 век 1130 год.</p>
<p>14 век 1374 - 1378 год.</p>	<p>2 + 2 + 2</p>	<p>2 + 2 + 2</p>
<p>2 + 2 + 2</p>	<p>2 + 2 + 2</p>	<p>2 + 2 + 2</p>
<p>0</p>	<p>0</p>	<p>0</p>

--	--	--

Баллы **18**

Задание 4 «Знатоки испанского искусства»

Даны 6 примеров искусства Испании.

1. Внесите в таблицу номера тех из них, которые теоретически могли видеть: Диего Веласкес, Мигель Сервантес, Антонио Гауди.
2. Кто эти люди, что Вам известно об их творчестве?
3. Укажите время создания этих архитектурных сооружений.







1	2	3
		
Здание Мэрии Севильи (Аюнтамьенто)	Собор Святого Януария в Неаполе	Колизей в Риме
4	5	6
		
Госпиталь Святого Креста и Святого Павла в Барселоне	Собор Святого Петра в Риме	Собор Альмудена в Мадриде

Таблица ответов

№	Антонио Гауди	Диего Веласкес	Мигель Сервантес
1			
2			

3			0

Баллы 0

Задание 5 «Логические цепочки»

Ответьте на вопрос, построив логические цепочки из мыслей и изображений, приведенных в таблице 1.

1. Этот предмет мебели получил название от имени реального человека.

Таблица 1.

		
1	2	3
		
4	5	6



7



8



9

Таблица ответов

Название мебели			
Обозначьте цифрами логическую цепочку изображений, относящихся к названию мебели	1	2	3
	3	5	7
Поясните логику своего выбора, дав описание выбранным изображениям			
1	1-3 Кукушетка голубая названа в честь светской дамы Ренессанс. 3		
2	2-5 изображение мадам Ренессанс которая лежит на кушетке портрет марии издотником Жаком Луи Давидом 6		
3	3- 7 портрет королевы 6		

Баллы 15+6

Задание 6 «Искусствоведческий анализ»

Рассмотрите и проанализируйте известное произведение русской школы



1. Напишите название работы и имя ее автора.
2. Опишите общую композицию работы.
3. Назовите значимые запоминающиеся детали, их место в композиции и функции.
4. Опишите образно-эмоциональное прочтение этого произведения.
5. Дайте стилистическую характеристику, подчеркнув основные черты.
6. Дайте определение жанра и назовите другие

известные произведения этого же жанра.

7. Укажите известные работы этого же художника.

1- галерея серов "Портрет графа Рубинштейн" - 4

2- на картине изображена русская виртуозная балерина графиня Рубинштейна

6

9.

Баллы

9